

Test z hudební nauky 2. ročník I. pololetí

Jméno a příjmení.....

1. Doplně názvy not v houslovém klíči:






2. Doplně noty:




c1 cis2 hes h1 ges2 fis1 dis1 es2 a1 des2

3. Napiš v celých notách stupnici A dur (nezapomeň na předznamenání), označ oba půltóny a napiš akord:



T5

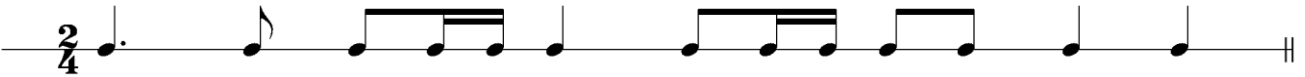

4. Doplně názvy stupnic:



5. Vyjmenuj strunné smyčcové nástroje.....

.....
.....

6. Doplň taktové čáry:



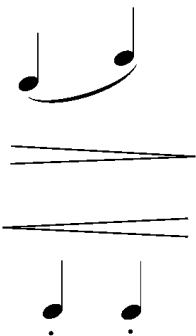
7. Spoj čarou co patří k sobě:

f

mp

mf

p



| |
|-------------|
| legato |
| mezzopiano |
| forte |
| staccato |
| piano |
| crescendo |
| mezzoforte |
| decrescendo |

| |
|---------------|
| středně silně |
| slabě |
| krátce |
| zeslabovat |
| vázaně |
| středně slabě |
| zesilovat |
| silně |

8. W. A. Mozart: uved' jeho známá díla.....

